

**Примерные задания, из которых будет состоять
итоговая контрольная работа по технологии**

1. Как называется наличие незанятого рабочего места или должности, на которую может быть принят новый работник?

2. Люди в трудоспособном возрасте, которые не имеют работы, активно ее ищут и готовы приступить к ней немедленно, называются

3. Совокупность приёмов и методов, позволяющих добиваться поставленных целей в решении задач взаимодействия между людьми. Как называются эти технологии?

А) информационные

Б) нанотехнологии

В) социальные

4. Какая из перечисленных технологий позволяет компьютерам вести себя как люди?

А) Искусственный интеллект

Б) Искусственный эмбрион

В) 3D-печать

5. Совокупность процессов, позволяющих создавать материалы размерами меньше атома или молекулы. Как называются эти технологии?

А) биотехнологии

Б) нанотехнологии

В) социальные

6. Как называются технологии использования живых организмов и продуктов их жизнедеятельности в интересах человека?

А) биотехнологии

Б) нанотехнологии

В) социальные

7. Что такое аддитивные технологии?

А) Это обобщённое название технологий, отвечающих за хранение, передачу, обработку, защиту и воспроизведение информации с использованием компьютеров. Невозможно представить себе современные области производства, науки, культуры, спорта и экономики, где не применялись бы компьютеры

Б) Это метод создания трехмерных объектов, деталей или вещей путем послойного добавления материала: пластика, металла, бетона и, возможно, в будущем — человеческой ткани

В) Это область науки по изучению закономерностей, действующих в процессе изготовления машин

Г) Это направление науки, специализирующееся на разработке и применении объектов, размер которых составляет от единиц до нескольких сотен нанометров

Д) Это последовательность действий, направленных на поэтапное, выверенное возведение строящихся объектов с учетом всех запланированных мероприятий в проекте

8. Определи и отметь на рисунке следующие зоны:

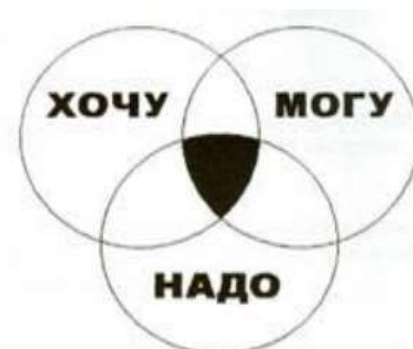
зона оптимального выбора профессии

зона совпадения возможностей личности с потребностями общества

зона внутреннего комфорта

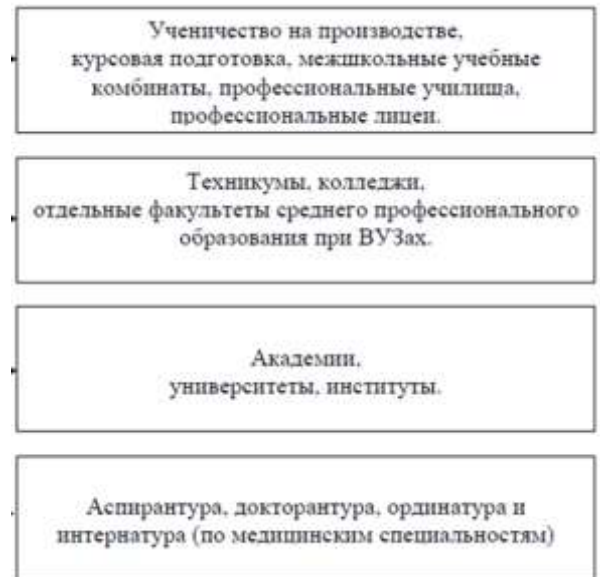
зона совпадения стремлений личности с потребностями общества

общества



9. Отметь на схеме «Профессиональное образование в России» (нужно выбрать!):

высшее профессиональное образование
начальное профессиональное образование
среднее профессиональное образование
послевузовское профессиональное образование



10. Что такое прототипирование? Где применяют? (приведи примеры)

11. Достоинства тканей, изготовленных из кукурузы

- А) полностью гипоаллергенна, высокая износостойкость
- Б) не мнётся и обладает бактерицидными свойствами
- В) обладает лекарственными свойствами

12. Достоинства тканей, изготовленных из водорослей

- А) не мнётся и обладает бактерицидными свойствами
- Б) защищает кожу от УФ лучей
- В) обладают антибактериальными свойствами, активизируют клеточный метаболизм

13. Какими уникальными свойствами обладает соевая ткань?

- А) не линяет и быстро сохнет
- Б) не мнётся и обладает бактерицидными свойствами
- В) защищает кожу от УФ лучей

14. Из какого сырья производится рециклированная кожа?

- А) старые ношенные вещи
- Б) обрезки натуральной кожи и клеящие материалы
- В) из сушеных листьев

15. Какую из перечисленных мерок измеряют целиком, а потом делят пополам?

- А) Дпт
- Б) Сб
- В) Впк

16. Дайте полное название мерок:

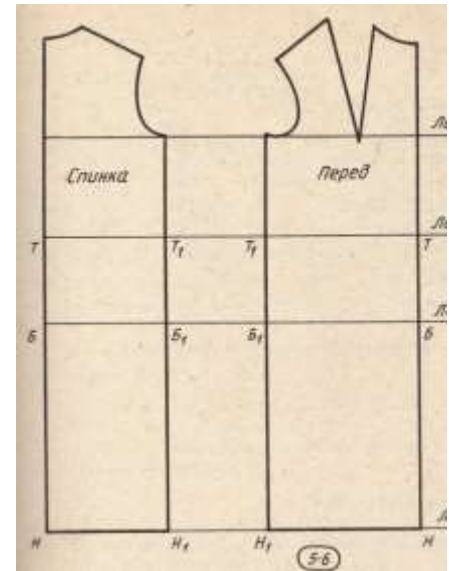
- Сг1 –
- Ст –
- Вг –
- Дтс –

17. Напишите сокращённое название мерок.

- Длина переда до талии –
- Ширина плеча –
- Высота плеча косая –
- Полуобхват бёдер –

18. Обозначьте на чертеже цифрами опорные линии.

1. Линия низа
2. Линия талии
3. Линия бёдер
4. Линия середины спинки (переда)
5. Линия груди
6. Линия бокового среза
7. Вытачки



19. Термин «иллюзия» в переводе с латинского языка означает ...

- А) цирковое представление
- Б) обман
- В) состояние психики
- Г) несбыточность надежд

20. Творческое задание: используя приёмы зрительных иллюзий, нарисуйте платье или костюм, которые скроют недостатки и подчеркнут достоинства. Объясните своё решение.

- А) широкие бёдра, короткие ноги
- Б) широкая талия, рост высокий
- В) плечи узкие
- Г) плечи широкие